



2 – А

Понеділок

04.04.2022

УЖМ

Тема: «Пора року весна.
Весняні місяці. Ознаки
весни»



ВЕСНА


Березень

Квітень

Травень

Повторення

Розгадати ребуси



A vibrant illustration of a spring garden. The scene is filled with various flowers, including tulips in shades of pink, purple, and yellow, and several colorful butterflies in flight. The background is a soft, light green with a subtle floral pattern. The text 'ВЕСНЯНІ КВІТИ' is prominently displayed in the center in a bold, pink font, with a faint reflection below it.

**ВЕСНЯНІ
КВІТИ**

ряст



кульбаба



гіацинти





нарциси



ТЮЛЬПАНИ



медунка



Завдання

- Переписати і прописати назви весняних квітів

- Вчити їх назви

Літературне читання

Тема: Оповідання “ Великдень ”

П. Волиняк. Ознайомлення з
оповіданням. Словникова робота.

Розгляд малюнків



Ст. 162

Вивчення нового матеріалу

СЛОВНИК:

Великдень – церковне свято. Воскресіння Ісуса Христа

Писанки – розписані яйця

Крашанки – розфарбовані яйця

Паски – хлібний, солодкий виріб

Дожидатися – чекати

Вивчення нового матеріалу

СЛОВНИК:

Великодня відправа – молитви та пісні вночі у церкві

Вдосвіта – вранці, коли сходить сонце

Розговлятися – їсти м'ясні страви після посту

Їсти свячене – їсти те, що священник посвятив

Морелі – дерева, виду абрикосів

Тішитися – радіти



Писанки



Крашанки




Паски



Хор



Священник



Церква



Процес святіння пасок

Завдання


Переписати словник у зошит

Роздивитися малюнки

Вчити словник

Математика

Тема: Аналіз контрольної роботи



Робота над темою уроку

I. Написати назви чисел

17 – сімнадцять

100 – сто

32 – тридцять два

80 – вісімдесят

54 – п'ятдесят чотири

69 – шістдесят дев'ять

78 – сімдесят вісім

45 – сорок п'ять

91 – дев'яносто один

23 – двадцять три

II. Запишіть сусідів чисел

15 **16** 17


27 **28** 29

41 **42** 43


63 **64** 65

78 **79** 80

III. Напишіть назви геометричних фігур



коло



трикутник



квадрат



прямокутник

Робота над темою уроку

IV. Обчислити значення виразів:

$$18 - a, \text{ якщо } a = 3$$

$$18 - 3 = 15$$

$$34 + a, \text{ якщо } a = 6$$

$$34 + 6 = 40$$

V. Обчислити значення виразів:

$$21 - (9 + 5) = 7$$

$$1). 9 + 5 = 14$$

$$2). 21 - 14 = 7$$

$$12 - (10 - 6) = 8$$

$$1). 10 - 6 = 4$$

$$2). 12 - 4 = 8$$

Робота над темою уроку

VI. Обчислити периметр прямокутника, зручним для вас способом



$$AB = 6 \text{ см}$$

$$BC = 3 \text{ см}$$

$$P = ?$$

$$P = 6 + 6 + 3 + 3 = 18 \text{ см}$$

VII. Розв'язати задачу

Задача

Мама купила 18 яблук і 12 бананів. Скільки всього фруктів купила мама?

Короткий запис

Яблука – 18

Банани – 12

Всього – ?

Розв'язання

$$18 + 12 = 30 \text{ (фруктів)}$$

Відповідь: 30 фруктів купила мама.

Завдання

Переписати матеріал у зошит

Англійська мова

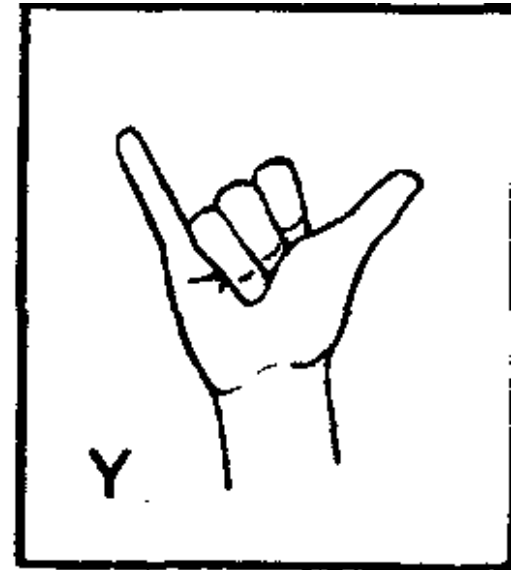
Тема: Письмо великої та малої букви Y y.

Дактильна позначка. Написання
транскрипцій букви, слів

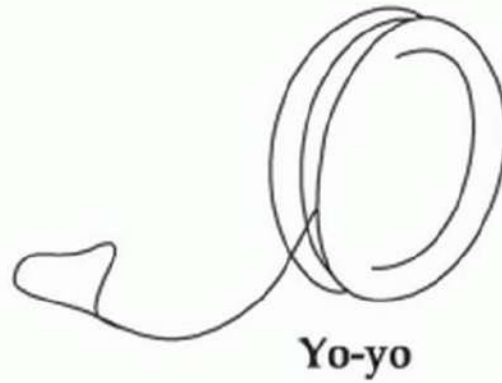


Буква Х х

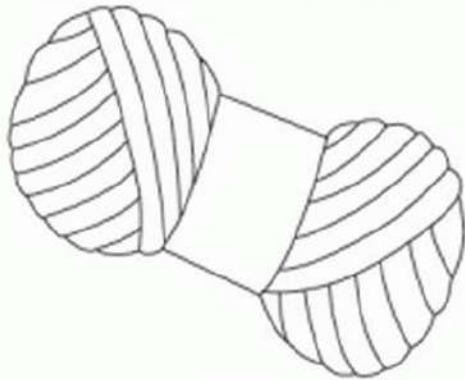
Ү у [вай]



Y y



Yo-yo [йо-йо] – іграшка
йо-йо




Yarn [йа:н] – пряжа
(нитки для в'язання)



Yacht [йат] – яхта



Yak [йак] – Як



Yeanling [йінлін] – ягня

Завдання:

- Вчити дактильню позначку букви
- Прописати букви в зошиті
- Переписати нові слова у зошит