

Математика на тему:

«Дія ділення.

Ділення на 2»

Вчитель: Советов А. В.

11.04.2022р.

13.04.2022р.

15.04.2022р.

МАТЕМАТИКА
5-6 КЛАС



ДІЯ ДІЛЕННЯ



**УРОК МАТЕМАТИКИ
З МІККІ ТА ЙОГО ДРУЗЯМИ**



Допоможіть Міккі розв'язати приклади на додавання та перевірити їх прикладами на віднімання

$$45 + 23 = 68$$

$$51 + 9 = 60$$

$$68 - 45 = 23$$

$$60 - 51 = 9$$

$$68 - 23 = 45$$

$$60 - 9 = 51$$



Допоможіть Мінні скласти та розв'язати
приклади на множення



$$2 \cdot 5 = 10$$



$$2 \cdot 6 = 12$$



$$2 \cdot 4 = 8$$



$$2 \cdot 9 = 18$$



Допоможіть Міккі розділити торт між всіма гостями порівну. Скільки шматочків торта одержить кожен з них?



Допоможіть Міккі розділити тістечка порівну між друзями.

Десять розділити порівну на п'ять буде по два.



Допоможіть Мінні розділити фрукти порівну між друзями.

Дванадцять розділити порівну на шість буде по два.



© Disney

Допоможіть Міккі порахувати скільки всього квітів у дівчат.



3 квітки

• на 2 дівчат = 6 квітів



Допоможіть Міккі розділити квіти порівну між дівчатами.



Шість розділити порівну на два буде по три.



6 квітів : на 2 дівчат = 3

квітки
Читаємо так: 6 розділити
на 2 дорівнює 3.



6 – число, яке ділимо на частини.

2 – число, яке показує кількість частин.

: - знак ділення.

$$3 \cdot 2 = 6$$



$$6 : 3 = 2$$



$$6 : 2 = 3$$



Якщо добуток розділити на
один з множників, то
отримаємо другий множник.







$$10 : 5 = 2 \text{ (ябл.)}$$

$$10 : 2 = 5 \text{ (т.)}$$





**Ділення – обернена
дія до дії множення.**



$$2 \cdot 5 = 10$$



$2 \cdot 4 = 8 \quad 8 : 2 = 4$

$2 \cdot 7 = 14 \quad 14 : 7 = 2$

$2 \cdot 5 = 10 \quad 10 : 5 = 2$

$2 \cdot 8 = 16 \quad 16 : 2 = 8$

$2 \cdot 9 = 18 \quad 18 : 9 = 2$

=



За допомогою таблиці множення числа 2
розв'яжіть приклади на ділення.

$16:2=8$

$12:2=6$

$4:2=2$

$10:2=5$

$8:2=4$

$18:2=9$



Допоможіть Міккі та Мінні розв'язати задачу.

6 метеликів летіли,
парами спочити сіли.
На скількох ромашках
спали ці комашки?



Допоможіть Міккі та Мінні розв'язати задачу.

18 каченят у ставку
плескалось.
Половина йде назад.
Скільки накупалось?



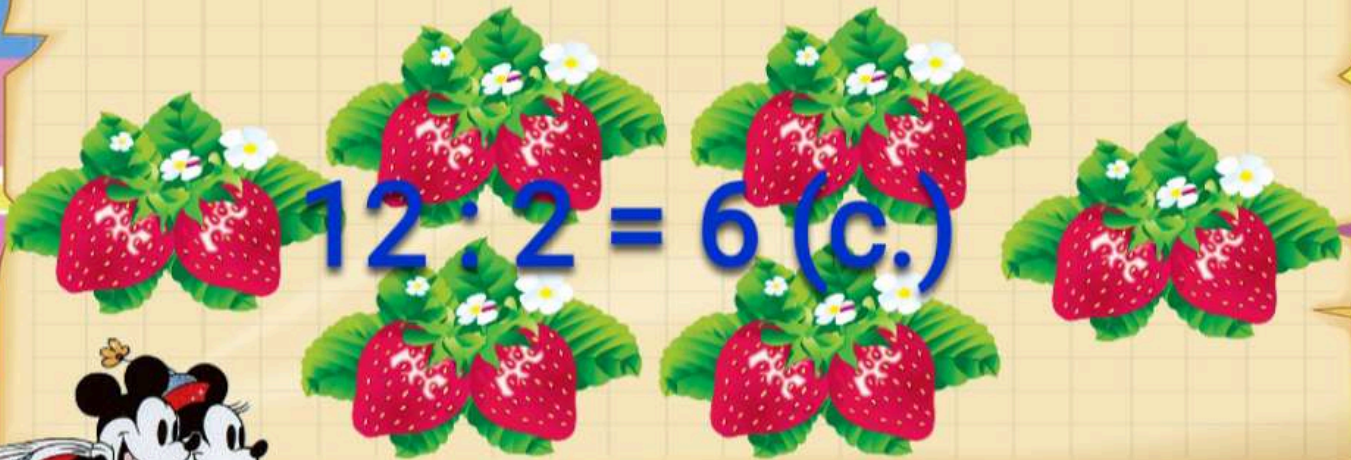
$$18 : 2 = 9 \text{ (к.)}$$



Допоможіть Міккі та Мінні розв'язати задачу.



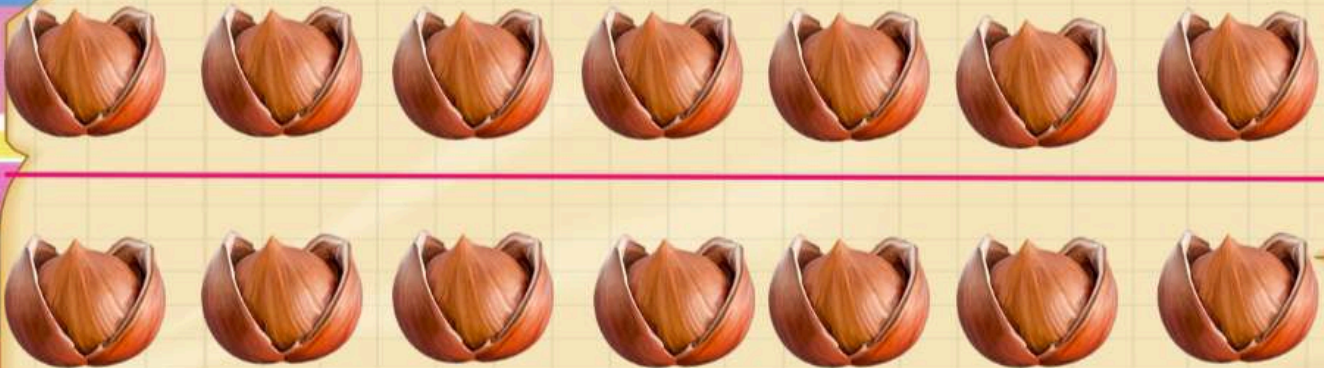
У двох синичок
є 12 суничок.
Як порівну ділити,
скажіть синичкам, діти.



Допоможіть Міккі та Мінні розв'язати задачу.



Задумалися мишки:
14 в них горішків.
На двох як поділити?
Підкажемо їм, діти?



$$14 : 2 = 7 \text{ (к.)}$$

УСПІХІВ У НАВЧАННІ!



Оформлення – ресурси Інтернету