



2 – А

Четвер

14.04.2022

Українська мова

Тема: Слова – назви чисел.
Питання “ Скільки? ”



Вивчення нового матеріалу

- Прочитайте вірш (ст.98)



1. Друзі завітали до студії юних художників і художниць.
Прочитай вірш і дізнаєшся, що вони там побачили.

У Михайлика в руці —
вісім різних олівців.
У його сестрички Соні —
голубий і два червоні.
У кирпатенького Жені —
півдесятка — всі зелені.
А в Олеся — без трьох десять.
Скільки будемо їх мати,
як до купи всіх зібрати?



Федір Петров

- Поставте питання до виділених у вірші слів

Вивчення нового матеріалу

Слова, які відповідають на питання **скільки?**, називають **числа**.



2. Запиши відповіді на запитання Щебетунчика. Числа записуй словами.



1. Скільки олівців тримав Михайлик?
2. Скільки олівців було в Соні?
3. Скільки олівців мав Женя?
4. А скільки олівців було в Олеся?




3. Підкресли в записаних реченнях слова — назви чисел.

Завдання:

- Переписати правило у зошит
- Вивчити правило
- Виконайте вправи 1, 2, 3.

Математика

Тема: Віднімання
двоцифрових чисел та чисел
з переходом через десяток в
межах 100



Повторення

Назвати числа
у межах 100

Пройти
лабіринт від 1
до 100

60	59	58	57					8	9
61	62	63	56				6	7	10
70	69	64	55				5	4	11
71	68	65	54	51	50	1	2	3	12
72	67	66	53	52	49	16	15	14	13
73	74	75	78	79	48	17	18	21	22
86	85	76	77	80	47	46	19	20	23
87	84	83	82	81	44	45	26	25	24
88	89	96	99	100	43	42	27	28	29
91	90	97				41	40	31	30
92	95	96				38	39	32	33
93	94					37	36	35	34

Робота за темою уроку

Зменшуване **Від'ємник** **Різниця**

$$15 - 7 = 8$$

Назви компонентів дій при дії віднімання

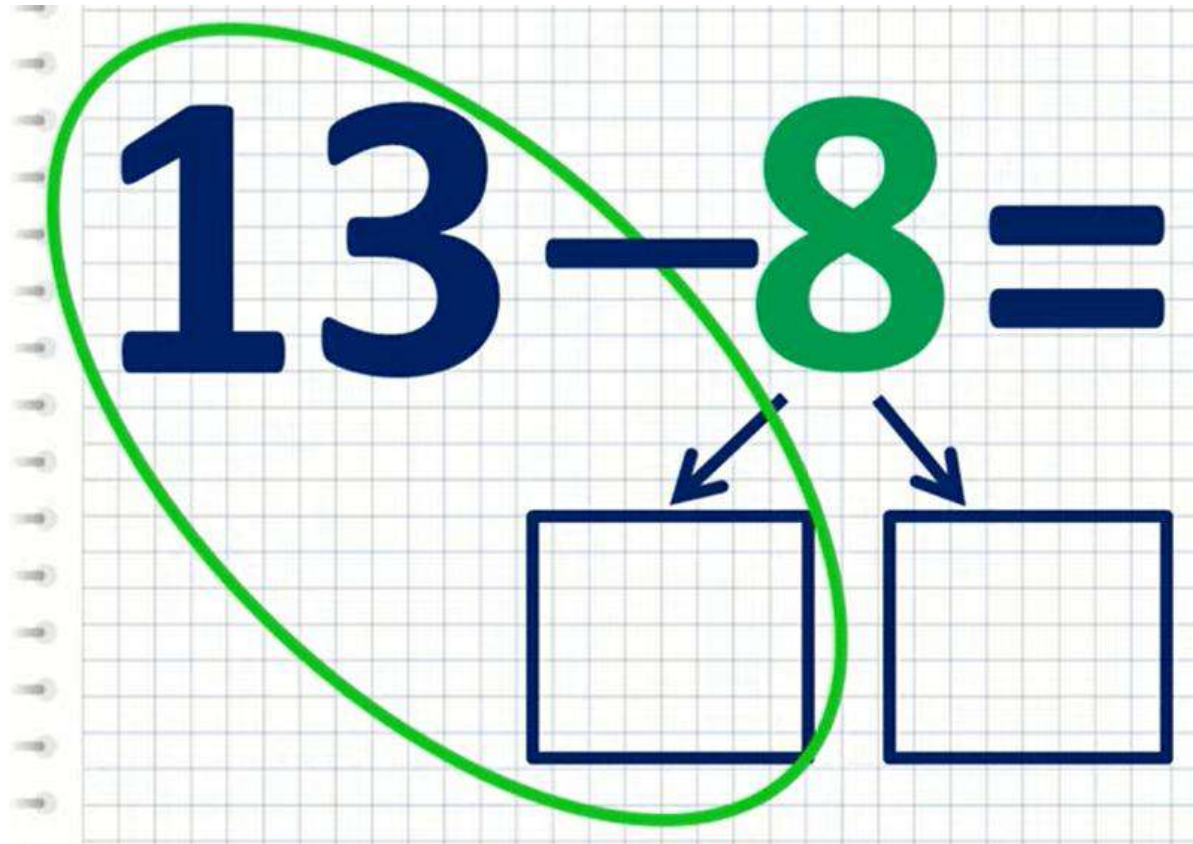
Робота за темою уроку

13 - 8 =

Two empty boxes are positioned below the number 8, with arrows pointing to them from the top of the 8.

Щоб виконати віднімання з переходом через десяток, для зручності нам треба розкласти від'ємник на 2 числа.

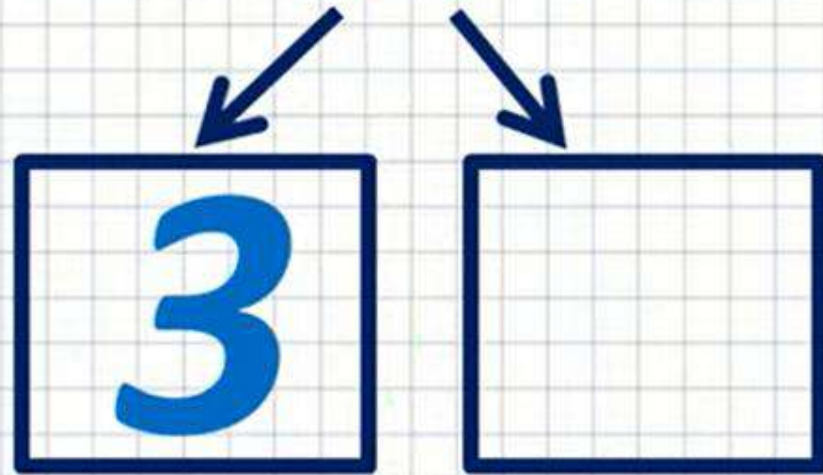
Робота за темою уроку



В першому квадратику записуємо число, яке слід відняти у зменшуваного, щоб отримати 10.

Робота за темою уроку

$$13 - 8 =$$



Скільки треба відняти від 13, щоб стало 10.
Так, це 3

Робота за темою уроку

$$13 - 8 =$$

The diagram shows the subtraction $13 - 8 =$ on a grid background. The number 13 is in dark blue, the minus sign is dark blue, the number 8 is green, and the equals sign is dark blue. Below the number 8, two arrows point to two blue boxes containing the numbers 3 and 5 respectively.

У другому квадратику пишемо число, яке у сумі з числом із першого квадратику, дають від'ємник.

Робота за темою уроку

$$13 - 8 = 5$$

The number 8 is decomposed into 3 and 5, as shown by the arrows pointing to the boxes below it.

10

$$13 - 3 - 5 = 5$$

Робота за темою уроку

$14 - 8 =$

$16 - 9 =$

$12 - 9 =$

$11 - 4 =$

$13 - 5 =$

$15 - 6 =$

$17 - 8 =$

$18 - 9 =$

$11 - 3 =$

$17 - 9 =$

$14 - 5 =$

$16 - 8 =$

$12 - 5 =$

$13 - 6 =$

$15 - 8 =$

$12 - 4 =$

Завдання

- Обчислити приклади

Я досліджую світ

Тема:

Весняні свята



Весняні свята

- Масляна – це одне з найстаріших свят слов'янських народів, яке символізує прихід весни. З приходом масляної розпочинаються справжні народні гуляння, які тривають увесь тиждень.



Весняні свята

- Вербна неділя
- Кожен рік Вербна неділя випадає на різні числа, її святкують за тиждень до Великодня.



Не я б'ю — верба б'є,
За тиждень — Великдень,
Будь дужий, як вода,
А багатий, як земля!



Весняні свята

- Найвеличнішим весняним святом є Великдень.



Активация Windows
Чтобы активировать Windows, перейдите в раздел "Параметры".

Завдання:

- Переписати весняні свята, та їх описи (символи) у зошит.
- Вчити назви весняних свят